

# 世界史 A

(解答番号  ~ )

**第1問** 世界史上のマイノリティ(少数派または被支配集団)について述べた次の文章A～Cを読み、下の問い(問1～11)に答えよ。(配点 34)

A トルコ東南部からイラン西部にまたがる地域に住むクルド人は、ほとんどがムスリムであり、独自の文化や母語を持っている。彼らは、前近代の①イスラーム諸王朝の支配下では、政治的に差別されることはなかった。第3回十字軍と戦い、ヨーロッパの文芸作品にも取り上げられた  も、クルド人であると言われる。しかし、20世紀に入り、トルコ、イラク、イランなどの国民国家が成立すると、クルド人は国境線で分断され、各国で②少数派として差別されることになり、その結果、クルド人をめぐる③民族問題が起こるようになった。

問1 文章中の空欄  に入れる人の名として正しいものを、次の①～④のうちから一つ選べ。

- ① サラーフ＝アッディーン(サラディン)
- ② ムハンマド＝アリー
- ③ メフメト2世
- ④ アクバル

問 2 下線部①について述べた文として正しいものを、次の①～④のうちから一つ  
選べ。

- ① ナスル朝は、ギリシアに宮殿を建てた。
- ② セルジューク朝の君主は、スルタンの称号を得た。
- ③ ファーティマ朝は、バグダードを首都とした。
- ④ マムルーク朝は、中央アジアを支配した。

問 3 下線部②に関連して、イスラーム教の多数派と少数派とされる宗派の名の組  
合せとして正しいものを、次の①～④のうちから一つ選べ。

- ① ルター派——シーア派
- ② ルター派——ネストリウス派
- ③ スンナ派——シーア派
- ④ スンナ派——ネストリウス派

問 4 下線部③に関連して、民族対立や迫害について述べた文として最も適当なも  
のを、次の①～④のうちから一つ選べ。

- ① スリランカでは、シンハラ人とマレー人との抗争が続いた。
- ② ロシアで、コソヴォ紛争が起こった。
- ③ ルワンダで、フツ人(フツ族)とツチ人(ツチ族)との間に紛争が起こった。
- ④ ウマイヤ朝では、アラブ人ムスリムが抑圧された。

## 世界史A

B 東欧には、多くの④ユダヤ人が居住しており、イディッシュ語を使用するなど、独自のユダヤ人共同体を形成していた。しかし、⑤第二次世界大戦中、⑥ドイツが東欧の大部分を支配すると、ユダヤ人への大規模な迫害が始まった。ユダヤ人は、と呼ばれる特別居住区に閉じ込められ、飢えと不衛生な環境に起因する衰弱や病気で多くの人々が死んでいった。さらに、最終的には、多くのユダヤ人が強制収容所に送られ、虐殺された。この結果、東欧のユダヤ人は激減し、その共同体の多くは消滅した。

問 5 文章中の空欄に入れる語として正しいものを、次の①～④のうちから一つ選べ。

- ① ソフホーズ
- ② スラム
- ③ アゴラ
- ④ ゲットー

問 6 下線部④に関連して、反ユダヤ主義の高まりについて述べた次の文中の空欄とに入れる語の組合せとして正しいものを、下の①～④のうちから一つ選べ。

19世紀末、反ユダヤ主義が高まっていた第三共和政下のでは、ユダヤ系の軍人がスパイ容疑で告発されるが起こった。

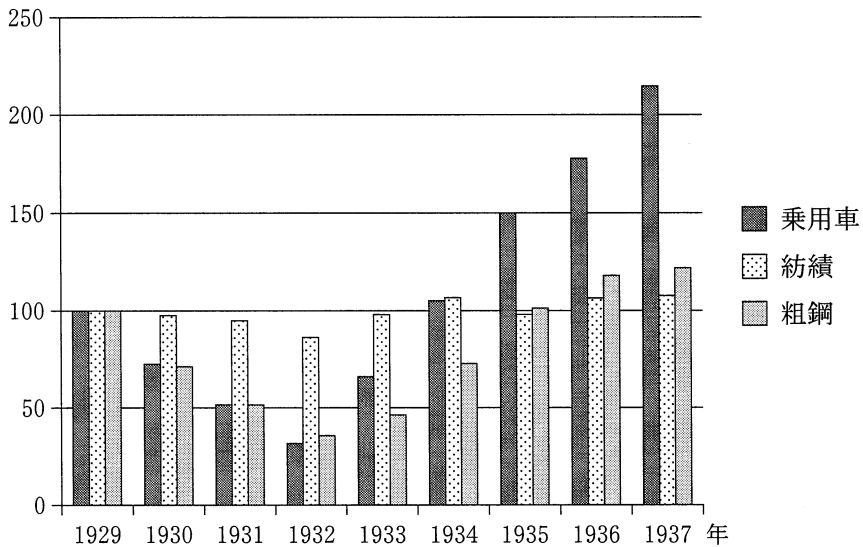
- ① イーフランス    ウー ドレフェス事件
- ② イーフランス    ウー サライエヴォ事件
- ③ イーオランダ    ウー ドレフェス事件
- ④ イーオランダ    ウー サライエヴォ事件

問 7 下線部⑤の時期に起こった出来事について述べた文として誤っているものを、次の①～④のうちから一つ選べ。

- ① ソ連が、スターリングラードの戦いでドイツ軍を破った。
- ② 日本が、ソ連と中立条約を締結した。
- ③ アメリカ合衆国で、テネシー川流域開発公社(TVA)が設立された。
- ④ 連合軍が、ノルマンディーへの上陸作戦に成功した。

# 世界史 A

問 8 下線部⑥に関連して、次のグラフは 1929 年から 1937 年にかけてのドイツの工業生産指数の一部を示したものである。このグラフから読み取れる内容について述べた下の文 **a** と **b** の正誤の組合せとして正しいものを、下の①～④のうちから一つ選べ。 8



1929 年を 100 とした工業生産指数の推移

(飯田隆『図説西洋経済史』より作成)

- a 乗用車生産は、1937 年には、世界恐慌が発生した年の 4 倍以上になった。
- b 粗鋼生産は、ベルリンでのオリンピック大会が開催された年に最小であった。

- ① a — 正      b — 正
- ② a — 正      b — 誤
- ③ a — 誤      b — 正
- ④ a — 誤      b — 誤

C 中米グアテマラでは、人口の多数を占める⑦先住民が、数の上で少数派のスペイン人<sup>まつえい</sup>末裔やメスティーソに、政治的・経済的に従属させられてきた。⑧20世紀後半、30年以上続いたグアテマラ内戦では、約170万人の難民が発生し、その中の80%以上がマヤ系先住民であると言われている。⑨国際連合は、先住民の権利を求める世界的な運動の高まりを受けて、1993年を「国際先住民年」と定めた。グアテマラで、1996年に内戦が終結したのも、こうした国際的な潮流を背景としていた。

問9 下線部⑦について述べた次の文 a と b の正誤の組合せとして正しいものを、下の①～④のうちから一つ選べ。 9

- a ラス=カサスは、先住民の保護を主張した。  
b アメリカ合衆国憲法の制定によって、先住民の人権が保障された。

- ① a — 正      b — 正  
② a — 正      b — 誤  
③ a — 誤      b — 正  
④ a — 誤      b — 誤

問10 下線部⑧の時期の科学や文化について述べた文として正しいものを、次の①～④のうちから一つ選べ。 10

- ① ビートルズの音楽が流行した。  
② レントゲンが、X線を発見した。  
③ ゲーテが、文学者として活躍した。  
④ ピカソが、「ゲルニカ」を描いた。

## 世界史 A

問11 下線部⑨について述べた文として誤っているものを、次の①～④のうちから一つ選べ。 

11
----

- ① パリを本部として、設立された。
- ② サンフランシスコ会議で、国際連合憲章が採択された。
- ③ 世界保健機関(WHO)が設置された。
- ④ ユネスコ(UNESCO)が設置された。

## 世界史A

第2問 世界史上の人間と動物との関わりについて述べた次の文章A～Cを読み、  
下の問い(問1～11)に答えよ。(配点 33)

A ①ヨーロッパでは、しばしば、<sup>わし</sup>驚、ライオン、熊のような力強い動物が権力のシンボルとして使われる一方で、搾取や迫害を受ける地域や集団は、②牛や羊など、利益を生む従順な動物に<sup>たと</sup>喩えられた。中世末期に、ローマ教皇庁が贖宥状(免罪符)を販売するようになると、その主たる対象とされたドイツは、ローマの資金源となり、「ローマの<sup>めうし</sup>牝牛」と呼ばれた。続く宗教改革の時代には、③印刷物に、弾圧するカトリック聖職者が<sup>おおかみ</sup>狼、迫害される④プロテスタントの民衆が羊として描かれた。

問1 下線部①の地域の経済について述べた文として誤っているものを、次の①～④のうちから一つ選べ。 12

- ① イギリスは、1930年代に、金本位制を停止した。
- ② 東欧諸国が、経済相互援助会議(COMECON)に参加した。
- ③ イタリアの諸都市が、ハンザ同盟を結んだ。
- ④ アメリカ大陸からの銀の流入により、価格革命が起こった。

問2 下線部②に関連して、世界史上の人間と動物との関わりについて述べた文として正しいものを、次の①～④のうちから一つ選べ。 13

- ① イタリアのラスコーの洞窟壁画には、動物が描かれている。
- ② ロシアでは、牧羊のために、第1次囲い込みが起こった。
- ③ 甲骨文字は、亀の甲羅や獣骨に刻まれている。
- ④ 21世紀に、初めてクローン羊が誕生した。



問 3 下線部③に関連して、ヨーロッパで活版印刷を発明したとされる人の名として正しいものを、次の①～④のうちから一つ選べ。 14

- ① グーテンベルク
- ② スティーヴンソン
- ③ コペルニクス
- ④ ワット

問 4 下線部④に関連して、次の年表に示した a～d の時期のうち、イギリス国教会が成立した時期として正しいものを、下の①～④のうちから一つ選べ。

15

<span style="border: 1px solid black; padding: 2px 10px;">a</span>
1509年 ヘンリ 8 世即位
<span style="border: 1px solid black; padding: 2px 10px;">b</span>
1558年 エリザベス 1 世即位
<span style="border: 1px solid black; padding: 2px 10px;">c</span>
1649年 チャールズ 1 世の処刑
<span style="border: 1px solid black; padding: 2px 10px;">d</span>

- ① a
- ② b
- ③ c
- ④ d

## 世界史A

- B ⑤ シベリアやサハリン(樺太)、北アメリカなどの寒冷地に棲息する⑥動物から得られる毛皮は、防寒衣として用いられるだけでなく、その美しさや稀少さゆえに、富や権力の象徴とされた。オコジョ(イタチ科の小動物)の冬毛で作った、白地に黒い斑点のある毛皮はアーミンと呼ばれ、フビライ(クビライ)や⑦ナポレオン1世など、古今の帝王が好んでまとった(下図参照)。白い毛皮はアーミン以外になかったため、珍重されたのである。また、クロテンの毛皮は、中国でもヨーロッパでも、王侯貴族や富裕層に愛用された。クロテンの毛皮貿易がもたらす利益は、⑧清とロシアの重要な財源となった。



写真

アーミンのがいたう外套をまとったフビライ(劉貫道「世祖出獵図」)

問 5 下線部⑤の地域の歴史について述べた文として正しいものを、次の①～④のうちから一つ選べ。 16

- ① イギリスが、シベリア鉄道を建設した。
- ② アメリカ合衆国が、ロシアからアラスカを購入した。
- ③ ドイツは、ロシア革命に干渉して、シベリアに出兵した。
- ④ 日本は、アイグン条約で、南樺太を領有した。

問 6 下線部⑥に関連して、人間と動物との関係について述べた次の文章中の空欄 ア と イ に入れる語の組合せとして正しいものを、下の①～④のうちから一つ選べ。 17

動物は、宗教によって、崇敬や禁忌の対象とされてきた。ヒンドゥー教を信仰する人々は ア を神聖視し、 イ は豚を不浄視している。

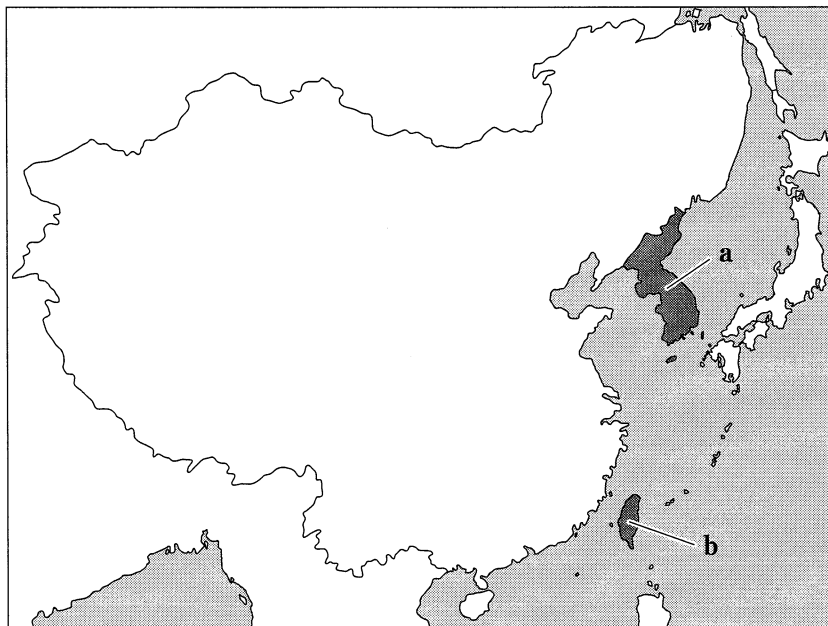
- ① アー牛            イーユグノー
- ② アー牛            イームスリム
- ③ アーラクダ        イーユグノー
- ④ アーラクダ        イームスリム

## 世界史A

問 7 下線部⑦について述べた文として正しいものを、次の①～④のうちから一つ選べ。 18

- ① ジロンド派を追放して、恐怖政治を行った。
- ② 大統領に選出された後、皇帝となった。
- ③ 世界政策と呼ばれる対外積極策を進めた。
- ④ 大陸封鎖令を破ったロシアに遠征した。

問 8 下線部⑧に関連して、康熙帝の時代に清の領土となった地域の名と、その位置を示す次の地図中の a または b との組合せとして正しいものを、下の①～④のうちから一つ選べ。 19



- ① 朝鮮 — a
- ② 朝鮮 — b
- ③ 台湾 — a
- ④ 台湾 — b

C 11世紀以降，⑨騎馬軍を中核とするムスリム勢力が，頻繁にインドに侵入するようになった。さらに⑩その勢力が，インドにおける支配圏を拡大していくと，騎馬の利用が急速にインド全域に広まっていった。しかし，インドは，湿潤酷暑で草原が広がっておらず，馬の飼育には適していなかった。そのためインドの諸王朝は，中央アジア・西アジアから多くの軍馬を輸入していた。輸入された軍馬は，⑪イギリスによる植民地支配が本格化する18世紀後半まで，騎馬軍を主軸とするインドの軍事力を支え続けたのである。

問 9 下線部⑨に関連して，騎馬遊牧民やその国家について述べた次の文 a と b の正誤の組合せとして正しいものを，下の①～④のうちから一つ選べ。 20

- a モンゴル帝国では，ジャムチと呼ばれる駅伝制が敷かれていた。  
b 万里の長城は，騎馬遊牧民の侵入を防ぐために建設された。

- ① a — 正      b — 正  
② a — 正      b — 誤  
③ a — 誤      b — 正  
④ a — 誤      b — 誤

## 世界史 A

問10 下線部⑩に関連して、インドのイスラーム王朝について述べた次の文中の空欄 **ア** と **イ** に入れる語の組合せとして正しいものを、下の①～④のうちから一つ選べ。 **21**

北インドは、13世紀から約3世紀にわたって **ア** によって、16世紀以降は **イ** によって、支配された。

- ① アーデリー＝スルタン朝      イーマラーター王国(マラータ王国)
- ② アーデリー＝スルタン朝      イームガル帝国
- ③ アークシャーナ朝              イーマラーター王国(マラータ王国)
- ④ アークシャーナ朝              イームガル帝国

問11 下線部⑪に関連して、イギリスの植民地について述べた文として波線部の正しいものを、次の①～④のうちから一つ選べ。 **22**

- ① 金鉱が発見されると、オーストラリアへの移民が急増した。
- ② タイが、インド帝国に併合された。
- ③ インドでは、東インド会社に対して、非暴力・不服従運動が起こった。
- ④ 南アフリカ戦争後の課税の強化をきっかけに、北アメリカ植民地の反英独立運動が高まった。

## 世界史 A

**第 3 問** 世界史上の社会運動や民衆運動について述べた次の文章 A～C を読み、下の問い(問 1～11)に答えよ。(配点 33)

A 2010 年 12 月にチュニジアで始まった反体制の抗議運動は、瞬く間に中東各地に波及した。エジプトでは、翌年 2 月、長期にわたって①権威主義的体制を敷いていたムバラク政権が倒された。そもそも、社会の広範な階層の人々が参加する民衆運動は、中東社会にとって初めての経験ではなかった。例えば、②第一次世界大戦後には、エジプトでイギリスからの独立を求める民衆蜂起が、各地で発生した。また、③イギリスの委任統治領となった④パレスチナでは、ユダヤ人入植に対する抗議運動が大反乱に発展した。

問 1 下線部①に関連して、1980 年代に生じた民主化の動きについて述べた次の文 a と b の正誤の組合せとして正しいものを、下の①～④のうちから一つ選べ。 

23
----

- a 中国で、民主化運動が弾圧される天安門事件が起こった。
- b ビルマ(ミャンマー)で、アキノ(コラソン＝アキノ)政権が誕生した。

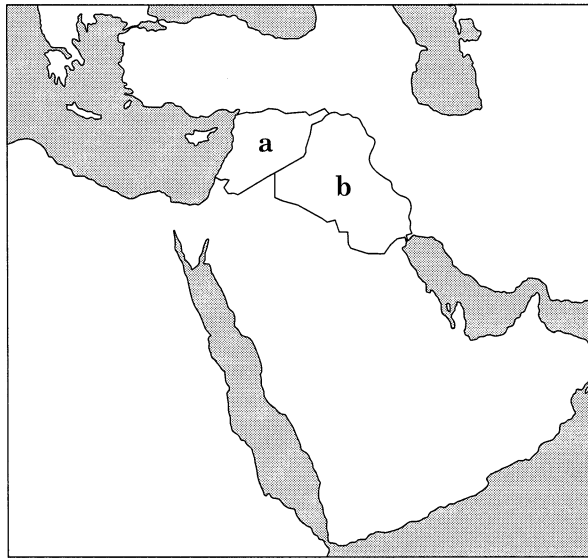
- ① a — 正      b — 正
- ② a — 正      b — 誤
- ③ a — 誤      b — 正
- ④ a — 誤      b — 誤

問 2 下線部②の時期に起こった民衆運動について述べた文として正しいものを、次の①～④のうちから一つ選べ。 

24
----

- ① ロシアで、プガチョフの乱が起こった。
- ② イランで、立憲革命が起こった。
- ③ 中国で、五・四運動が起こった。
- ④ サパタが、メキシコ革命を開始した。

問 3 下線部③に関連して、イギリスの委任統治領となった地域の名と、その位置を示す次の地図中の **a** または **b** との組合せとして正しいものを、下の①～④のうちから一つ選べ。 25



- |           |           |
|-----------|-----------|
| ① シリア — a | ② シリア — b |
| ③ イラク — a | ④ イラク — b |

問 4 下線部④の地域の歴史について述べた次の文 **a** ～ **c** が、年代の古いものから順に正しく配列されているものを、下の①～⑥のうちから一つ選べ。 26

- a パレスチナ暫定自治協定が締結された。
- b アラファトが、パレスチナ解放機構(PLO)の議長に就任した。
- c 第1次中東戦争が起こった。

- |             |             |             |
|-------------|-------------|-------------|
| ① a → b → c | ② a → c → b | ③ b → a → c |
| ④ b → c → a | ⑤ c → a → b | ⑥ c → b → a |



## 世界史 A

B ⑤ 19世紀半ば以降のイギリスの労働運動において、影響力を増していったのが、労働組合である。例えば炭鉱労働者の組合は、高い組合加入率を背景に、⑥ 労働条件の改善を求め、政治活動にも次第に関与していった。⑦ 労働党の初期の指導者の一人であるケア＝ハーディも、元炭鉱夫である。しかし、炭鉱労働者の組合は、20世紀後半に影響力を弱め、1985年に、炭鉱閉鎖政策に反対するストライキが失敗に終わると、決定的な衰退へと向かった。

問 5 下線部⑤に関連して、1848年のヨーロッパにおける革命や民衆運動について述べた文として誤っているものを、次の①～④のうちから一つ選べ。

27

- ① オーストリアで、メッテルニヒが、政権を獲得した。
- ② イギリスで、チャーティスト運動が進められた。
- ③ フランクフルト国民議会が開かれた。
- ④ フランスで、臨時政府が、国立作業場を設置した。

問 6 下線部⑥に関連して、労働者を対象に各国政府が進めた政策について述べた次の文 a と b の正誤の組合せとして正しいものを、下の①～④のうちから一つ選べ。

28

- a イギリスでは、工場法により、労働条件の改善が試みられた。
- b ドイツでは、ビスマルクによって、保険制度(社会保障制度)が整備された。

- ① a — 正      b — 正
- ② a — 正      b — 誤
- ③ a — 誤      b — 正
- ④ a — 誤      b — 誤

問 7 下線部⑦に関連して、政党の歴史について述べた文として最も適切なものを、次の①～④のうちから一つ選べ。 29

- ① イタリアは、ファシスト党(ファシスタ党)政権の下、第一次世界大戦に参戦した。
- ② 中国国民党が、人民公社を設立した。
- ③ ロシアで、ボリシェヴィキが、ソヴィエト政権を樹立した。
- ④ アメリカ合衆国で、南北戦争後に、共和党が結成された。

## 世界史A

C 太平天国の運動は、清の打倒や漢民族王朝の復興を掲げる **ア** を⑧指導者として、進められた。太平天国は、生活難にあえぐ民衆の支持を集め、⑨中国南部一帯に勢力を広げた。だが、内部分裂や規律の緩みが生じると、列強の協力を得た清軍に敗北を重ね、衰退に向かうことになる。とはいえ、太平天国の記憶は、民衆の間で長く語り継がれ、清に抵抗するその後の⑩武装闘争や革命運動に、影響を与えることになった。

問 8 文章中の空欄 **ア** に入れる人の名として正しいものを、次の①～④のうちから一つ選べ。 **30**

- ① 洪秀全
- ② 阮福暎(阮福映)
- ③ 曾国藩
- ④ 康有為

問 9 下線部⑧に関連して、独立運動の指導者について述べた次の文 **a** と **b** の正誤の組合せとして正しいものを、下の①～④のうちから一つ選べ。 **31**

- a フランクリンが、アメリカ合衆国初代大統領に就任した。
- b インドネシアで、スカルノが大統領に就任した。

- ① a — 正      b — 正
- ② a — 正      b — 誤
- ③ a — 誤      b — 正
- ④ a — 誤      b — 誤

問10 下線部⑨の国における変革の動きについて述べた文として正しいものを、次の①～④のうちから一つ選べ。 32

- ① 中華民国成立後，科挙が廃止された。
- ② 義和団事件によって，清朝が倒された。
- ③ 袁世凱が，中国同盟会を結成した。
- ④ 陳独秀が，新文化運動(文学革命)を主導した。

問11 下線部⑩に関連して，次の年表に示した a～d の時期のうち，近代以降の朝鮮半島で義兵闘争が起こった時期として正しいものを，下の①～④のうちから一つ選べ。 33

<b>a</b>	1882年 米朝修好通商条約が締結された
<b>b</b>	1937年 「皇国臣民ノ誓詞」が制定された
<b>c</b>	1960年 李承晩が，大統領を辞任した
<b>d</b>	

- ① a                      ② b                      ③ c                      ④ d

問題と解答は、独立行政法人 大学入試センターホームページより転載しています。  
ただし、著作権上の都合により、一部の問題・画像を省略しています。